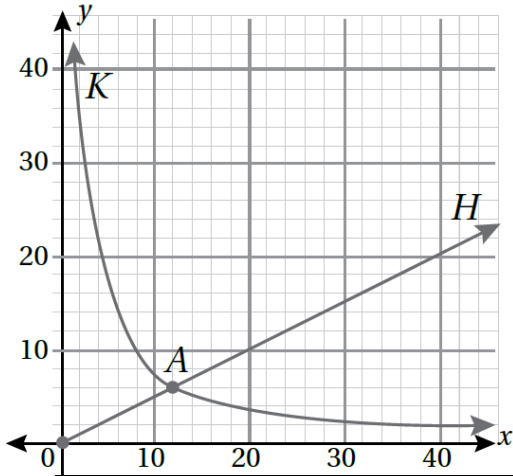


الفصل الدراسي الثاني مراجعة التناسب

الاسم :
الصف: الثامن

السؤال الاول :

حدد نوع التناسب ثم جد ثابت التناسب
و معادلته لكل من المنحنيين



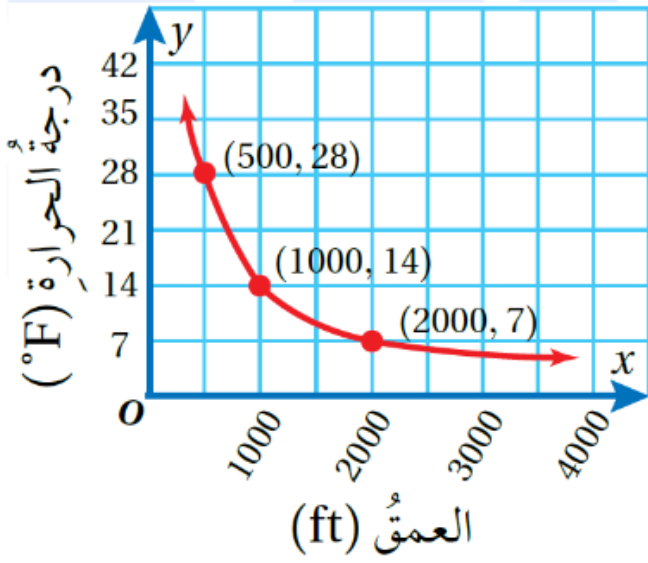
معادلة التناسب	ثابت التناسب	نوع التناسب	
			المنحنى H
			المنحنى A

النشاط الثاني :

حدد نوع التناسب ثم و جد ثابت التناسب و معادلة التناسب

الزمن h	معدل السرعة Km/h
2	90
2.5	72
3	60
4	45

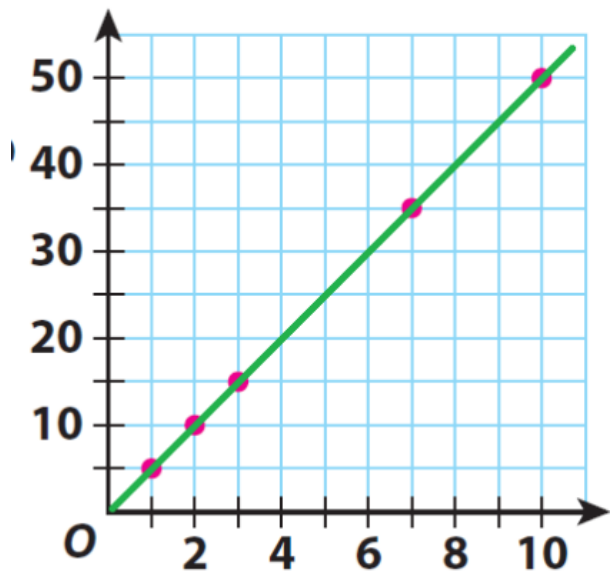
(1)



(2)

x	1	4	9	20
y	1.5	6	13.5	30


(3)




(4)

النشاط الثاني : أجد قيمة المجهول فيما يلي

1) تناسب طردي

x		5
y	12	4.8

2) تناسب عكسي

x	100	200
y	5	

3) تناسب عكسي

x	36	a
y	2	5

4) تناسب طردي

x	7	21
y	70	