

المرحلة الأساسية (4-5)  
الفصل الدراسي الأول 2022-2023  
ورقة عمل رقم ( 1 )

المادة: العلوم العامة











الاسم: \_\_\_\_\_

التاريخ: / 11 / 2022

الصف: الخامس الأساسي الشعبة ( أ / ب )

- الوحدة 3: الموارد الطبيعية و مصادر الطاقة - الدرس 2: مصادر الطاقة .
- الهدف: أن يتمكن الطالب من تحديد تحولات الطاقة من شكل لآخر .

السؤال الأول: اذكر تحولات الطاقة الظاهرة في الصور الآتية :

	→	
<input type="text"/>	→	<input type="text"/>
	→	
<input type="text"/>	→	<input type="text"/>
	→	
<input type="text"/>	→	<input type="text"/>
	→	
<input type="text"/>	→	<input type="text"/>
	→	
<input type="text"/>	→	<input type="text"/>

• السؤال الثاني :

املاً المخطّط الآتي في ما يتعلّق بتحوّل الطاقة الكهربائيّة إلى أشكال أخرى من الطّاقة:



• السؤال الثالث :

اذكر نوع الطّاقة المذكور في الوصف في الجدول أدناه:

نوع الطّاقة	الوصف
	الطّاقة المخزّنة في الطعام والوقود.
	الطّاقة التي تمتلكها الأجسام المتحركة.
	الطّاقة الناتجة عن حرق الوقود بوجود الهواء.

• السؤال الرابع :

ارسم دائرة حول الأداة/ الصورة التي تمثل الطاقة المذكورة :

	الطاقة الحرارية
	الطاقة الضوئية
	الطاقة الحركية
	الطاقة الصوتية
	الطاقة الكهربائية

مُعَلِّمة المادة : سارة دحابة